



TABELLER : DET MANGLENDE TAL



2	4	6	8		12
---	---	---	---	--	----



3	6	9		15	18
---	---	---	--	----	----



9	18	27		45	54
---	----	----	--	----	----



8		24	32	40	48
---	--	----	----	----	----




4	8	12	16		20
---	---	----	----	--	----




5	10	15		25	30
---	----	----	--	----	----



6	12		24	30
---	----	--	----	----



7	14	21	28		42
---	----	----	----	--	----






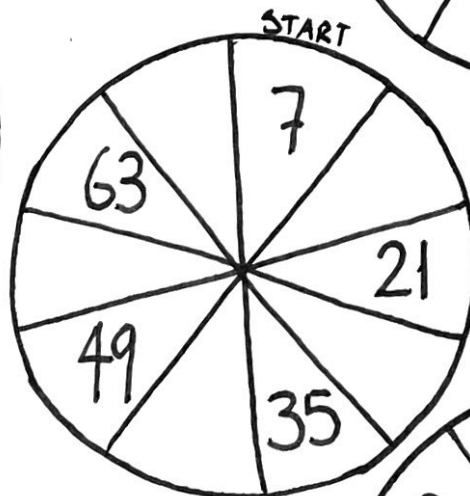

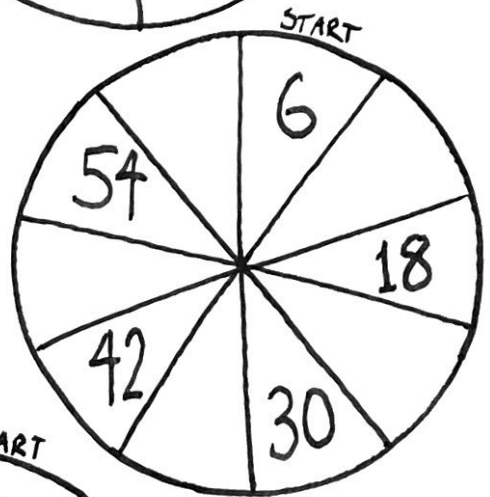
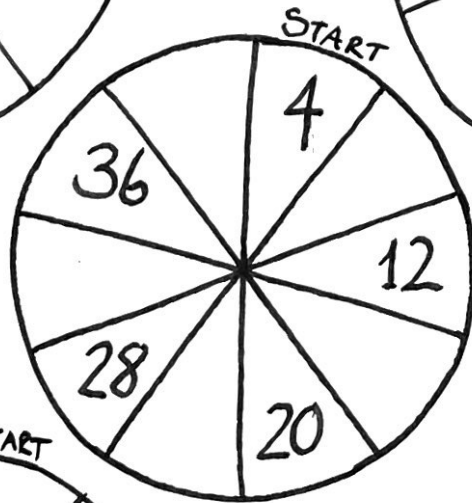

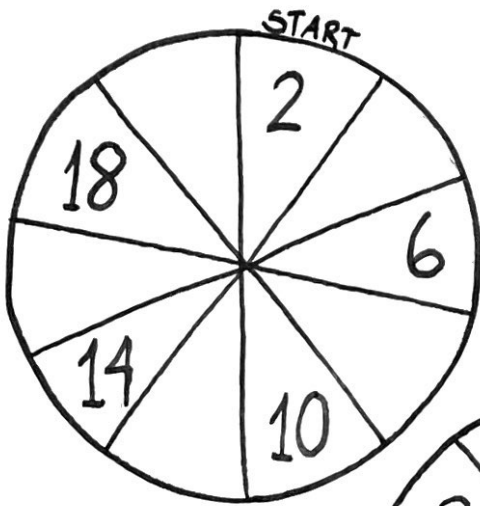
28	35	42	49	56		70
----	----	----	----	----	--	----



27	36	45	54		72	81
----	----	----	----	--	----	----

TABELLER

UDFYLD DET DER MANGLER



GANGE STYKKER

@MARIASNATURBOERN

$$\underline{2 \times 4}$$

$$\underline{3 \times 11}$$

$$\underline{4 \times 4}$$

$$\underline{8 \times 22}$$

$$\underline{2 \times 74}$$

$$\underline{5 \times 65}$$

$$\underline{6 \times 49}$$

$$\underline{9 \times 9}$$

$$\underline{8 \times 9}$$

$$\underline{7 \times 71}$$

$$\underline{9 \times 72}$$

$$\underline{3 \times 34}$$

$$\underline{4 \times 44}$$

$$\underline{3 \times 11}$$

$$\underline{5 \times 61}$$

$$\underline{7 \times 52}$$

$$\underline{5 \times 8}$$

$$\underline{8 \times 74}$$

$$\underline{6 \times 73}$$

$$\underline{8 \times 45}$$

$$\underline{2 \times 67}$$

$$\underline{2 \times 92}$$

$$\underline{4 \times 81}$$

$$\underline{3 \times 83}$$

$$\underline{3 \times 46}$$

$$\underline{6 \times 6}$$

$$\underline{6 \times 71}$$

$$\underline{9 \times 33}$$

$$\underline{7 \times 23}$$

$$\underline{7 \times 78}$$

$$\underline{9 \times 88}$$

$$\underline{8 \times 88}$$

DIVIDER

@HARIASNATORBOERN

3 personer skal dele 15 æbler
Hvor mange får de hver? _____

2 hunde skal dele 10 kiks
Hvor mange får de hver? _____

4 personer skal dele 16 kager
Hvor mange får de hver? _____

Der er 16 karameller i en skal. Du skal dele dem med din ven, hvor mange får i hver? _____

10 børn i en klasse skal dele 30 flødebolter.
Hvor mange kan de få hver? _____

3 fugle skal dele 27 fuglefros.
Hvor mange får de hver? _____

5 fisk finder 25 stykker mad.
Hvor mange får de hver? _____

I en skal ligger 49 brombær, som 7 børn skal dele.
Hvor mange får de hver? _____

Der er 18 biler på vejen og 3 kørebane.
Hvor mange biler skal der være i hver kørebane? _____

4 elefanter skal dele 24 Peanuts.
Hvor mange får de hver? _____

4 brandbiler skal ud at køre. Der er 24 brandmænd.
Hvor mange brandmænd skal der være på hver bil? _____

Herman har 18 bussemænd og 2 naboer.
Hvor mange bussemænd har han i hver? _____

Der er 45 hindbær på busken. 9 børn vil plukke dem.
Hvor mange kan de plukke hver? _____

En mand har 63 vandmeloner. Der kommer 9 personer for at købe dem.
Hvor mange kan de købe hver? _____

Mor har købt 36 is. Hun har 4 børn.
Hvor mange is kan børnene få hver? _____